

CORSO DI SCIENZA DELLE COSTRUZIONI

A.A. 2020-2021

Preesame telematico del 09.06.2021

Parte 2 - Testo 1

Nota: Per chi dispone di una propria stampante, i risultati numerici vanno riportati a penna su questo stesso foglio, nei riquadri predisposti; per chi non dispone di stampante occorrerà predisporre un primo foglio nel quale riportare i dati riportati nei riquadri insieme ai risultati; il primo foglio dovrà contenere anche le seguenti informazioni: la prova (I prova intermedia o II prova intermedia), la data dell'appello, il nome e cognome, la matricola, la mail, il corso di studi; i calcoli (in forma ordinata) vanno allegati a seguire. Al termine della prova ed entro il limite di tempo indicato dalla commissione si dovrà caricare il compito svolto sulla piattaforma TEAMS in forma di unico file PDF le immagini fotografiche del primo foglio e a seguire dello svolgimento. Il file va nominato: cognome_matricola_data dell'appello.

Esprimere i risultati in forma frazionaria o con almeno 3 cifre decimali.

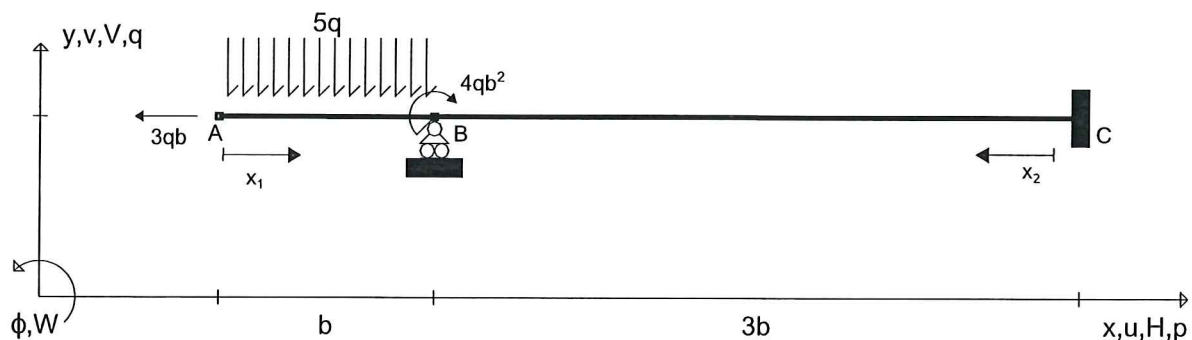
Allievo:..... e-mail:..... Matricola:.....

Esercizio n. 1 (17 punti)

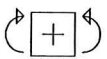

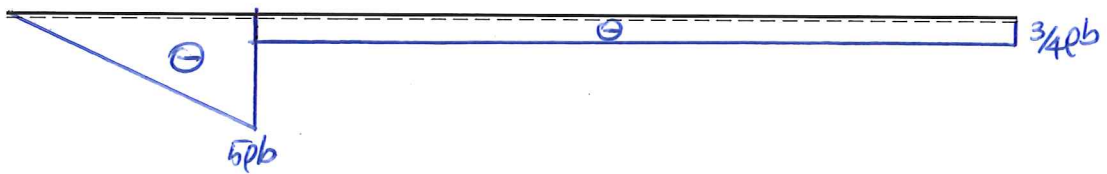
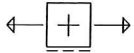

Risolvere mediante il Principio dei Lavori Virtuali (PLV) la struttura iperstatica riportata in Figura. Dopo avere determinato l'iperstatica tenendo conto solo della deformabilità flessionale, calcolare le reazioni vincolari, le equazioni delle azioni interne e tracciare nello spazio predisposto i corrispondenti grafici. Si rammenta che il diagramma del momento flettente va riportato dalla parte delle fibre tese.

Universita' di Cagliari

SdC_IC 09.06.21*001



EQ. DI CONGUENTO: $v_B(x, q) = 0$; oppure $\phi_C(x, q) = 0$

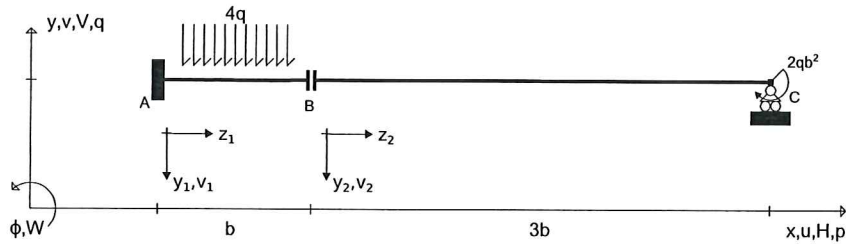


$V_B (\hat{v}) = \dots\dots\dots 3qb$	$H_C (\hat{v}) = \dots\dots\dots 3qb$	$V_C (\hat{v}) = \dots\dots\dots 3/4 qb$	$M_C (\hat{v}) = \dots\dots\dots -3/4 qb^2$
$N_{AB} = \dots\dots\dots 3qb$	$T_{AB} = \dots\dots\dots -5q x_1$	$M_{AB} = \dots\dots\dots -5/2 q x_1^2$	
$N_{CB} = \dots\dots\dots 3qb$	$T_{CB} = \dots\dots\dots -3/4 qb$	$M_{CB} = \dots\dots\dots -3/4 qb^2 + 3/4 qb x_2$	

Esercizio n. 2 (16 punti)

Per la struttura *isostatica*, indicata in Figura, determinare le reazioni vincolari e l'espressione delle azioni interne, nonché le condizioni al contorno imposte dai vincoli nei punti *A*, *B* e *C*. Utilizzare quindi l'equazione della linea elastica per determinare:

1. La deformata della linea d'asse, $v(z) = v_1(z_1) \cup v_2(z_2)$;
2. La sua derivata prima, $v'(z) = v_1'(z_1) \cup v_2'(z_2)$;
3. Lo spostamento verticale del punto *B* riferita al corpo 2, $v_B^{(2)}$;
4. La rotazione del punto *C*, φ_C .



↑ (+) ↓



⊙ (+) ⊙

$H_A (\Rightarrow) = \dots 0 \dots$	$V_A (\hat{\Uparrow}) = \dots 4qb \dots$	$M_A (\hat{\curvearrowright}) = \dots 4qb^2 \dots$	$V_C (\hat{\Uparrow}) = \dots 0 \dots$
$N_{AB} = \dots // \dots$	$T_{AB} = \dots 4qb - 4qz_1 \dots$	$M_{AB} = \dots -4pb^2 + 4qbz_1 - 2qz_1^2 \dots$	
$N_{BC} = \dots // \dots$	$T_{BC} = \dots // \dots$	$M_{BC} = \dots -2qb^2 \dots$	
c.c in A = $v_1(z_1=0) = 0$; $v_1'(z_1=0) = 0$		c.c in B = $v_1'(z_1=b) = v_2'(z_2=0)$	
c.c in C = $v_2(z_2=3b) = 0$			
$v_1(z_1) = \dots \frac{2qb^2}{EI} z_1^2 - \frac{2qb}{3EI} z_1^3 + \frac{q}{6EI} z_1^4 \dots$	$v_1'(z_1) = \dots \frac{4qb^2}{EI} z_1 - \frac{2qb}{EI} z_1^2 + \frac{2q}{3EI} z_1^3 \dots$		
$v_2(z_2) = \dots \frac{2b^2}{EI} z_2^2 + \frac{8qb^3}{3EI} z_2 - \frac{17qb^4}{EI} \dots$	$v_2'(z_2) = \dots \frac{2qb^2}{EI} z_2 + \frac{8qb^3}{3EI} \dots$		
$v_B^{(2)} = \dots -\frac{17pb^4}{EI} \quad (\uparrow) \dots$	$\varphi_C = \dots +\frac{26qb^3}{3EI} \quad (\curvearrowright) \dots$		

CORSO DI SCIENZA DELLE COSTRUZIONI

A.A. 2020-2021

Preesame telematico del 09.06.2021

Parte 2 - Testo 2

Nota: Per chi dispone di una propria stampante, i risultati numerici vanno riportati a penna su questo stesso foglio, nei riquadri predisposti; per chi non dispone di stampante occorrerà predisporre un primo foglio nel quale riportare i dati riportati nei riquadri insieme ai risultati; il primo foglio dovrà contenere anche le seguenti informazioni: la prova (I prova intermedia o II prova intermedia), la data dell'appello, il nome e cognome, la matricola, la mail, il corso di studi; i calcoli (in forma ordinata) vanno allegati a seguire. Al termine della prova ed entro il limite di tempo indicato dalla commissione si dovrà caricare il compito svolto sulla piattaforma TEAMS in forma di unico file PDF le immagini fotografiche del primo foglio e a seguire dello svolgimento. Il file va nominato: cognome_matricola_data dell'appello.

Esprimere i risultati in forma frazionaria o con almeno 3 cifre decimali.

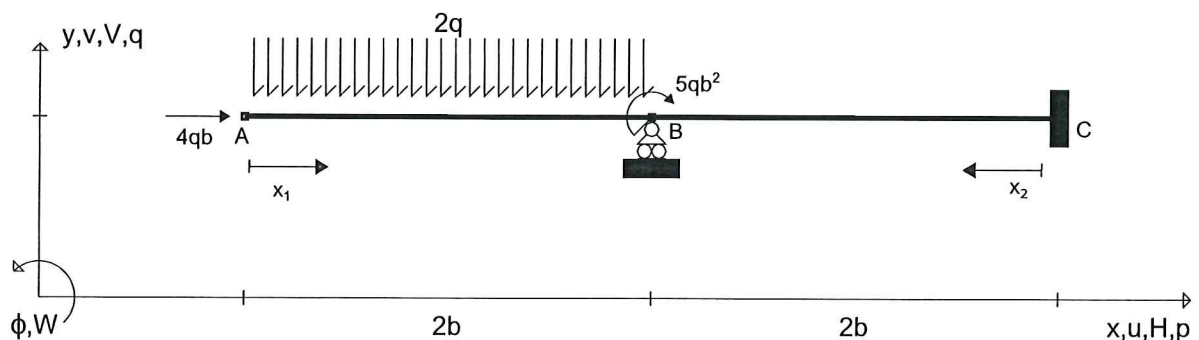
Allievo:..... e-mail:..... Matricola:.....

Esercizio n. 1 (17 punti)

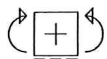
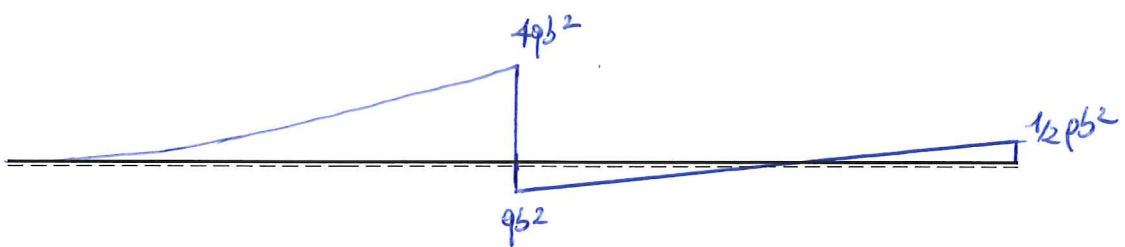
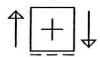
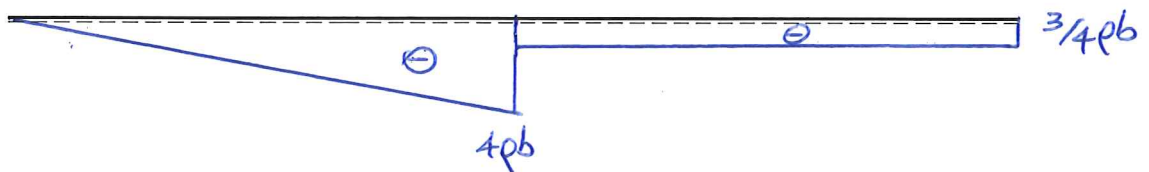
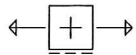

Risolvere mediante il Principio dei Lavori Virtuali (PLV) la struttura iperstatica riportata in Figura. Dopo avere determinato l'iperstatica tenendo conto solo della deformabilità flessionale, calcolare le reazioni vincolari, le equazioni delle azioni interne e tracciare nello spazio predisposto i corrispondenti grafici. Si rammenta che il diagramma del momento flettente va riportato dalla parte delle fibre tese.

Universita' di Cagliari

SdC_IC 09.06.21*002



ED. DI CONGUENZA: $\pi_B(x, q) = 0; \phi_C(x, q) = 0$




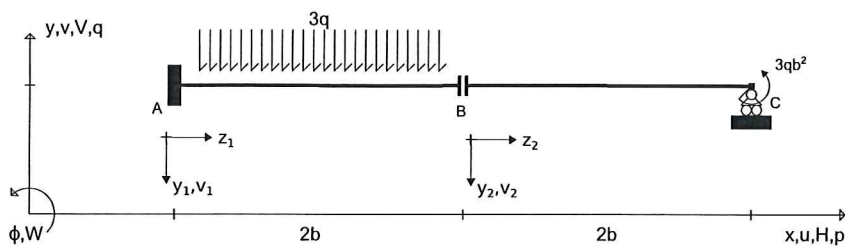
$V_B (\hat{v}) = 4pb$	$H_C (\hat{h}) = -4pb$	$V_C (\hat{v}) = 3/4pb$	$M_C (\hat{m}) = -9b^2/2$
$N_{AB} = -4pb$	$T_{AB} = -2px_1$	$M_{AB} = -9x_1^2$	
$N_{CB} = -4pb$	$T_{CB} = -3/4pb$	$M_{CB} = -\frac{1}{2}9b^2 + 3/49b \times 2$	

Esercizio n. 2 (16 punti)

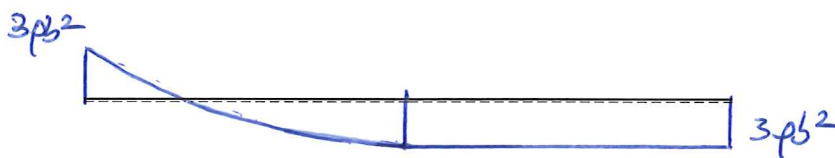
Per la struttura *isostatica*, indicata in Figura, determinare le reazioni vincolari e l'espressione delle azioni interne, nonché le condizioni al contorno imposte dai vincoli nei punti *A*, *B* e *C*.

Utilizzare quindi l'equazione della linea elastica per determinare:

1. La deformata della linea d'asse, $v(z) = v_1(z_1) \cup v_2(z_2)$;
2. La sua derivata prima, $v'(z) = v_1'(z_1) \cup v_2'(z_2)$;
3. Lo spostamento verticale del punto *B* riferita al corpo 2, $v_B^{(2)}$;
4. La rotazione del punto *C*, φ_C .



↑ (+) ↓



↺ (+) ↻

$H_A (\hat{e}_x) = \dots 0 \dots$	$V_A (\hat{e}_y) = \dots 6qb \dots$	$M_A (\hat{e}_z) = \dots 3qb^2 \dots$	$V_C (\hat{e}_y) = \dots 0 \dots$
$N_{AB} = \dots \pi \dots$	$T_{AB} = \dots 6qb - 3qz_1 \dots$	$M_{AB} = \dots -3qb^2 + 6qbz_1 - \frac{3}{2}qz_1^2 \dots$	
$N_{BC} = \dots \pi \dots$	$T_{BC} = \dots 0 \dots$	$M_{BC} = \dots 3qb^2 \dots$	
c.c in A = $v_1(z_1=0) = 0; v_1'(z_1=0) = 0$		c.c in B = $v_1(z_1=2b) = v_2(z_2=0)$	
c.c in C = $v_2(z_2=2b) = 0$			
$v_1(z_1) = \dots \frac{3qb^2}{2EI} z_1^2 - \frac{qb}{EI} z_1^3 + \frac{q}{8EI} z_1^4 \dots$	$v_1'(z_1) = \dots \frac{3qb^2}{EI} z_1 - \frac{3qb}{EI} z_1^2 + \frac{q}{2EI} z_1^3 \dots$		
$v_2(z_2) = \dots -\frac{3qb^2}{2EI} z_2^2 - \frac{2pb^3}{EI} z_2 + \frac{10pb^4}{EI} \dots$	$v_2'(z_2) = \dots -\frac{3pb^2}{EI} z_2 - \frac{2pb^3}{EI} \dots$		
$v_B^{(2)} = \dots +\frac{10qb^4}{EI} (\downarrow) \dots$	$\varphi_C = \dots -\frac{8pb^3}{EI} (\downarrow) \dots$		

CORSO DI SCIENZA DELLE COSTRUZIONI

A.A. 2020-2021

Preesame telematico del 09.06.2021

Parte 2 - Testo 3

Nota: Per chi dispone di una propria stampante, i risultati numerici vanno riportati a penna su questo stesso foglio, nei riquadri predisposti; per chi non dispone di stampante occorrerà predisporre un primo foglio nel quale riportare i dati riportati nei riquadri insieme ai risultati; il primo foglio dovrà contenere anche le seguenti informazioni: la prova (I prova intermedia o II prova intermedia), la data dell'appello, il nome e cognome, la matricola, la mail, il corso di studi; i calcoli (in forma ordinata) vanno allegati a seguire. Al termine della prova ed entro il limite di tempo indicato dalla commissione si dovrà caricare il compito svolto sulla piattaforma TEAMS in forma di unico file PDF le immagini fotografiche del primo foglio e a seguire dello svolgimento. Il file va nominato: cognome_matricola_data dell'appello.

Esprimere i risultati in forma frazionaria o con almeno 3 cifre decimali.

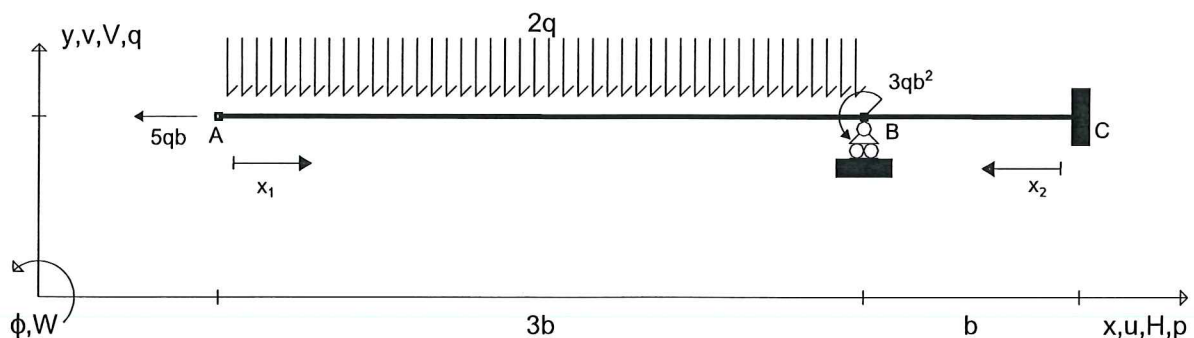
Allievo:.....e-mail:..... Matricola:.....

Esercizio n. 1 (17 punti)

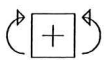

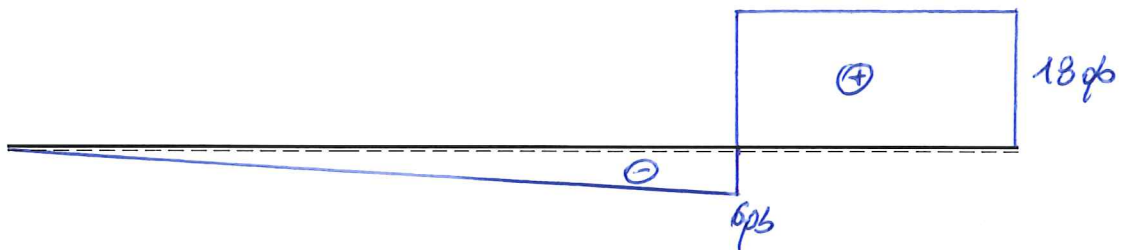
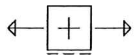

Risolvere mediante il Principio dei Lavori Virtuali (PLV) la struttura iperstatica riportata in Figura. Dopo avere determinato l'iperstatica tenendo conto solo della deformabilità flessionale, calcolare le reazioni vincolari, le equazioni delle azioni interne e tracciare nello spazio predisposto i corrispondenti grafici. Si rammenta che il diagramma del momento flettente va riportato dalla parte delle fibre tese.

Universita' di Cagliari

SdC_IC 09.06.21*003



Ed. vincolanti: $v_B(x, q) = 0$; oppure $\psi_C(x, q) = 0$

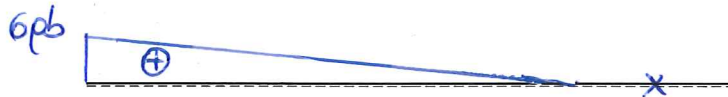
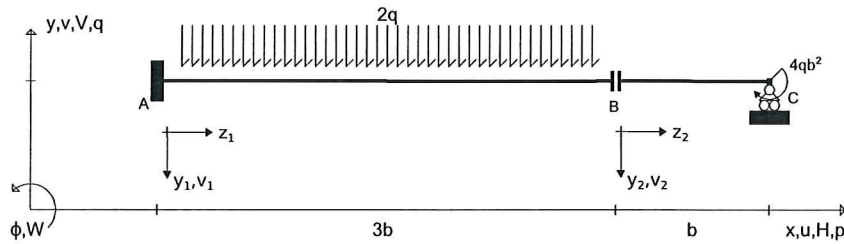


$V_B (\hat{v}) = 24.9b$	$H_C (\hat{u}) = 5pb$	$V_C (\hat{v}) = -18.9b$	$M_C (\hat{\varphi}) = 6pb^2$
$N_{AB} = 5pb$	$T_{AB} = -2qx_1$	$M_{AB} = -qx_1^2$	
$N_{CB} = 5pb$	$T_{CB} = 18.9b$	$M_{CB} = 6pb^2 - 18.9bx_2$	

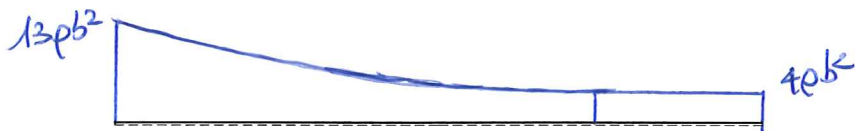
Esercizio n. 2 (16 punti)

Per la struttura *isostatica*, indicata in Figura, determinare le reazioni vincolari e l'espressione delle azioni interne, nonché le condizioni al contorno imposte dai vincoli nei punti *A*, *B* e *C*. Utilizzare quindi l'equazione della linea elastica per determinare:

1. La deformata della linea d'asse, $v(z) = v_1(z_1) \cup v_2(z_2)$;
2. La sua derivata prima, $v'(z) = v_1'(z_1) \cup v_2'(z_2)$;
3. Lo spostamento verticale del punto *B* riferita al corpo 2, $v_B^{(2)}$;
4. La rotazione del punto *C*, φ_C .



↑ (+) ↓



↺ (+) ↻

$H_A (\Rightarrow) = 0$	$V_A (\hat{u}) = 6qb$	$M_A (\hat{\varphi}) = 13qb^2$	$V_C (\hat{u}) = 0$
$N_{AB} = //$	$T_{AB} = 6qb - 2qz_1$	$M_{AB} = -13qb^2 + 6qbz_1 - qz_1^2$	
$N_{BC} = //$	$T_{BC} = //$	$M_{BC} = -4qb^2$	
c.c in A = $v_1'(z_1=0) = 0$; $v_1'(z_1=0) = 0$		c.c in B = $v_1'(z_1=3b) = v_2'(z_2=0)$	
c.c in C = $v_2(z_2=b) = 0$			
$v_1(z_1) = \frac{13qb^2}{2EI} z_1^2 - \frac{qb}{EI} z_1^3 + \frac{q}{2EI} z_1^4$	$v_1'(z_1) = \frac{13qb^2}{EI} z_1 - \frac{3qb}{EI} z_1^2 + \frac{2q}{3EI} z_1^3$		
$v_2(z_2) = \frac{2qb^2}{EI} z_2^2 + \frac{21qb^3}{EI} z_2 - \frac{23qb^4}{EI}$	$v_2'(z_2) = \frac{4qb^2}{EI} z_2 + \frac{21qb^3}{EI}$		
$v_B^{(2)} = -\frac{23qb^4}{EI} \quad (\uparrow)$	$\varphi_C = +\frac{25qb^3}{EI} \quad (\uparrow)$		